



**ATIVIDADES COMPLEMENTARES DE ESTUDO – COVID 19**

**ROTEIRO DE ATIVIDADES COMPLEMENTARES DE ESTUDO – COVID 19**

**30º roteiro**

**ESCOLA MUNICIPAL DR. VITÓRIO FRANKLIN**

**PROFESSORA: LUCI ANE FERNANDES TURMA: Sala de Recurso B - Grupo 2**

**COMPONENTES CURRICULARES: LÍNGUA PORTUGUESA E MATEMÁTICA**

**PERÍODO DE REALIZAÇÃO: 13 a 29 DE OUTUBRO DE 2021**

**NOME : \_\_\_\_\_**

<b>O QUE VOCÊ VAI ESTUDAR:</b>	<ul style="list-style-type: none"> <li>➤ Língua Portuguesa: Leitura e interpretação de texto informativo, formação de frases, caça palavras e ortografia F e V.</li> <li>➤ Matemática: situações problemas e operações.</li> </ul>
<b>PARA QUE VAMOS ESTUDAR ESSES CONTEÚDOS?</b>	<ul style="list-style-type: none"> <li>➤ Língua Portuguesa: Ler e interpretar as questões explícitas do texto, escrever o nome dos desenhos e encontrá-los no caça – palavras (V/F), formar frases com mais de uma palavra escolhida.</li> <li>➤ Matemática: Ler, interpretar e resolver as situações problemas e as operações de multiplicação.</li> </ul>
<b>COMO VAMOS ESTUDAR OS CONTEÚDOS?</b>	<ul style="list-style-type: none"> <li>➤ Lendo, gravando áudio ou vídeo e respondendo as atividades propostas pela professora.</li> </ul>

**LÍNGUA PORTUGUESA**


**1-LEIA O TEXTO COM ATENÇÃO:**

**ALFAVACA**

A alfavaca, também chamada de manjerição de folha-larga ou de manjerição, é bastante apreciada como planta ornamental devido às suas flores. Recomenda-se retirar as primeiras florações para aumentar o número de folhas e o ciclo da planta. Na culinária, as suas folhas são utilizadas como um aromático tempero.

Propriedades medicinais: Na medicina popular, as suas folhas e flores são utilizadas no preparo de chás por suas propriedades tônicas e digestivas. São indicados ainda para problemas respiratórios e reumáticos.

Origem: Wikipédia, a enciclopédia livre.





**ATIVIDADES COMPLEMENTARES DE ESTUDO – COVID 19**

a) Por qual outro nome que a alfavaca também é conhecida?

R: \_\_\_\_\_

b) O texto acima é:


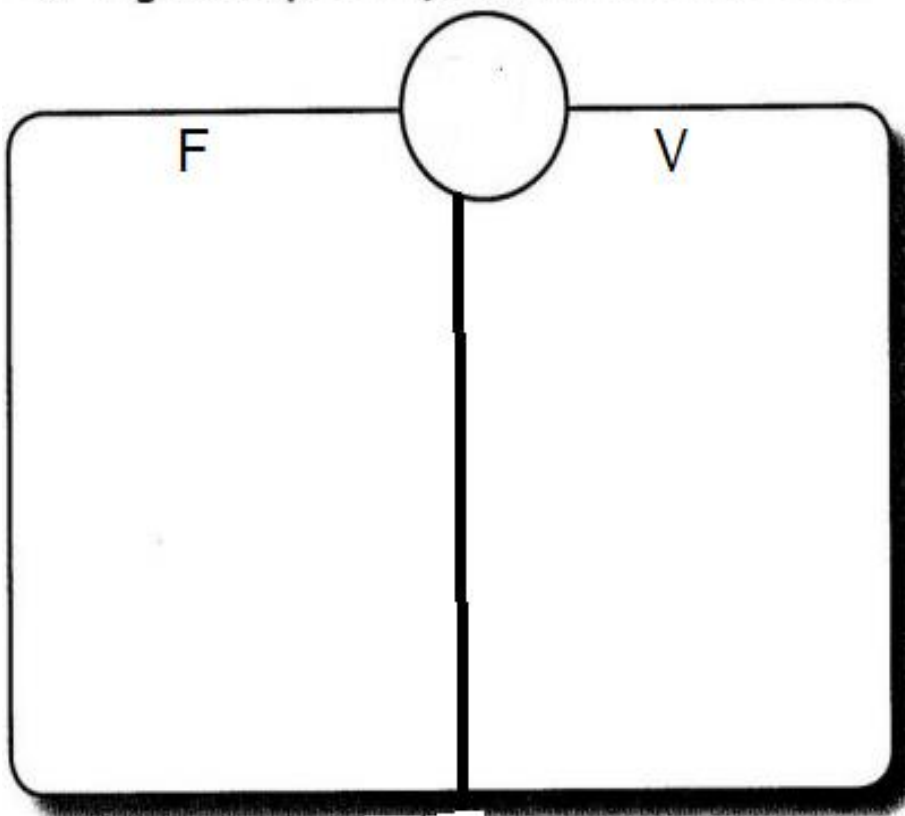
( ) Narrativo      ( ) Informativo      ( ) poético

c) Quais as propriedades medicinais da alfavaca?

R: \_\_\_\_\_

\_\_\_\_\_  
\_\_\_\_\_  
\_\_\_\_\_

• **Agora copie as palavras escritas com**





ATIVIDADES COMPLEMENTARES DE ESTUDO – COVID 19

2- Escreva o nome dos desenhos e depois procure-os no caça – palavras.

DFROBFANTASMAAHNG  
 TVIVRIASVASCUPOAT  
 VESEETOCOFXSVOAVD  
 TSDLÇAMRNOCOEDOIZ  
 RDFANTOSMSAUNPBOC  
 EVASSOURAFPATQEIF  
 VESTIDOECSOTSIOFZL  
 PDNOGOILORÃOOLDOAO  
 CRETVIOLÃOODLAARÇR  
 NUVENSIDOBPODPMON  
 FÇRUNZ FACALAOEICE  
 OMOGRUAÇGLIAROGJÄ  
 UDFAROLDURHOESAZO

3- Forme uma frase com as palavras (nuvem, violão, fantasma)

---



---



---



---



**ATIVIDADES COMPLEMENTARES DE ESTUDO – COVID 19**

**MATEMÁTICA**

**1. Carla, Luíza, Fábio e João apostaram uma corrida da casa até o pomar.**

**Siga as pistas abaixo e descubra a ordem de chegada de cada um.**

- Não houve empate na chegada.
- Fábio chegou na frente de Carla e Luíza.
- João chegou na frente de Luíza.
- Carla chegou na frente de João.

1º \_\_\_\_\_

2º \_\_\_\_\_

3º \_\_\_\_\_

4º \_\_\_\_\_

2- Ajudem os alienígenas a chegarem até sua nave. Para encontrar o caminho resolva as operações atrás da folha, escreva os resultados nos círculos e pinte os resultados corretos, levando-os até a nave.

$38 \times 5 =$    $47 \times 5 =$    $26 \times 5 =$    $59 \times 5 =$

$28 \times 6 =$    $19 \times 6 =$    $37 \times 6 =$    $46 \times 6 =$

$47 \times 7 =$    $38 \times 7 =$    $59 \times 7 =$    $26 \times 7 =$

$56 \times 8 =$    $27 \times 8 =$    $19 \times 8 =$    $38 \times 8 =$

$19 \times 9 =$    $56 \times 9 =$    $48 \times 9 =$    $27 \times 9 =$



ATIVIDADES COMPLEMENTARES DE ESTUDO – COVID 19

				180	202	615	354	325
			→	190	235	540	400	242
				150	115	130	295	180
		101		414	180	202	555	168
	540	325		329	276	222	114	615
202	182	413	266	242	101	180	325	333
448	115	333	202	542	615			
325	216	101	414	432	243			
615	152	400	504	115	242			
180	541	304	171	333	202			

3-Larissa tem uma loja que vende enfeites, observe a tabela de vendas:



**ATIVIDADES COMPLEMENTARES DE ESTUDO – COVID 19**

**VEJA AS VENDAS DA SEMANA:**

TIPO:	SEGUNDA	TERÇA	QUARTA	QUINTA	SEXTA
BANDEIROLAS	224	347	287	339	465.
BALÕES	122	184	298	275	371

a-QUANTOS ENFEITES FORAM VENDIDOS NA SEGUNDA-FEIRA? \_\_\_\_\_

b -QUANTAS BANDEIROLAS FORAM VENDIDAS NA SEMANA? \_\_\_\_\_

c-QUAL O DIA DA SEMANA QUE FOI VENDIDO MAIS ENFEITES? \_\_\_\_\_ QUANTOS? \_\_\_\_\_

d- QUAL O DIA DA SEMANA QUE FOI VENDIDO MENOS ENFEITES? \_\_\_\_\_ QUANTOS? \_\_\_\_\_

f-QUANTAS BANDEIRINHAS FORAM VENDIDAS NA SEXTA-FEIRA? \_\_\_\_\_

g-QUAL FOI O ENFEITE MAIS VENDIDO? \_\_\_\_\_ QUANTOS? \_\_\_\_\_

h-QUAL FOI O ENFEITE MENOS VENDIDO? \_\_\_\_\_ QUANTOS? \_\_\_\_\_